

GEOMETRIJSKA TELESA

Pomagaj Ajažu poiskati skriti zaklad.


Pomagaš mu lahko tako, da pravilno odgovoriš na zastavljena vprašanja.

Na vprašanja odgovarjaj ustno.



Kvader.

Kako imenujemo
geometrijsko telo
na fotografiji?



Bravo!

OGLIŠČE

Ali je to valj?

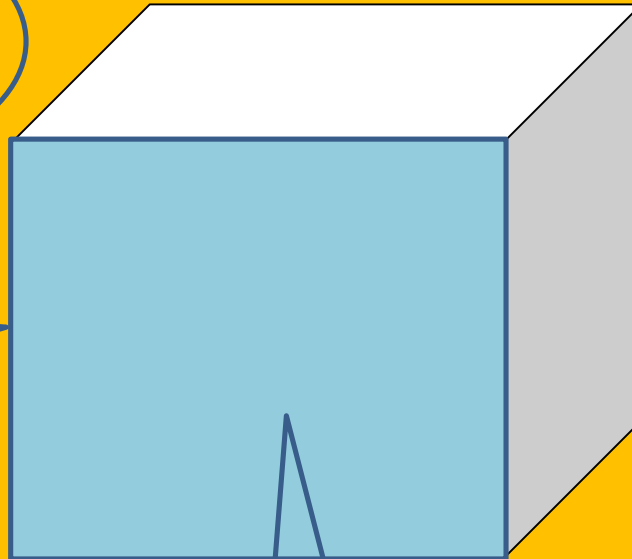
Ne. To je
kocka.

ROB


Kocka ima 8
oglišč, 6 mejnih
ploskv in 12
robov.

**MEJNA
PLOSKEV**


Opiši kocko.



Valj.



Kako imenujemo to
geometrijsko telo.



Super ti gre.
Mislim, da sva čisto
blizu skritega
zaklada.

Spoznali smo
kocko, kvader in
valj. Katero telo
moramo še
omeniti?

Kroglo.



8 oglišč.


Dotakni se enega
oglišča.

Koliko oglišč ima
kvader?




Ali ima še katero
geometrijsko telo 8
oglišč?

Kocka.



Super ti gre ... Komaj čakam, da najdeva zaklad. Zato mi pomagaj odgovoriti na zadnje vprašanje. Koliko mejnih ploskev ima valj?

3.



Juhej, končno sva
prispela do skritega
zaklada. Hvala ti za
pomoč, zelo dobro
poznaš geometrijska
telesa.

