

TO PA ŽE ZNAM!

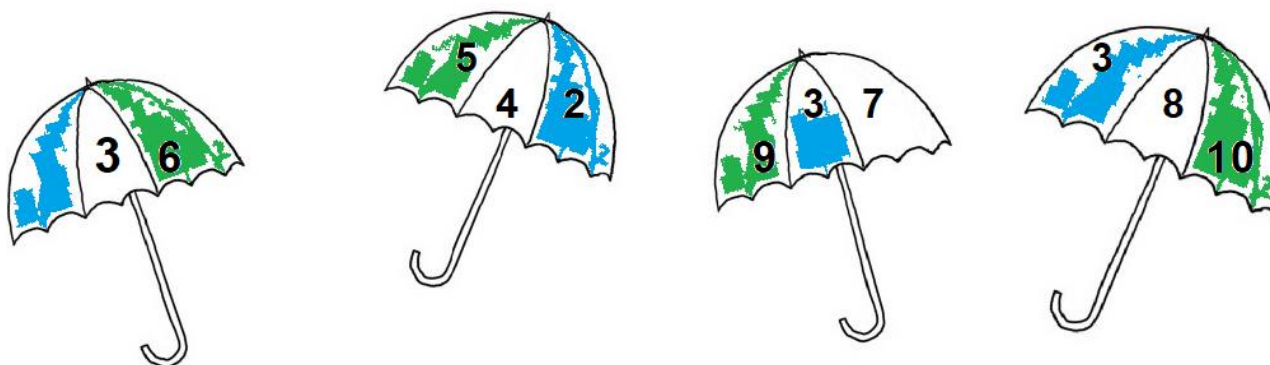


ŠTEJEMO, UREJAMO, PRIMERJAMO IN ZAPISUJEMO ŠTEVILA. SEŠTEVAMO IN ODŠTEVAMO V OBSEGU DO 10, TER DOLOČAMO PREDHODNIKE IN NASLEDNIKE ŠTEVIL.

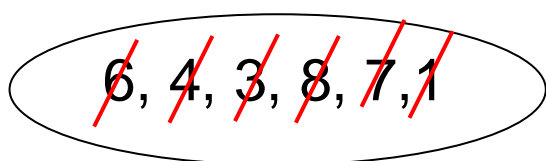
1. ZAPIŠI ŠTEVILA OD 1 DO 10.

1	2	3	4	5	6	7	8	9	10
---	---	---	---	---	---	---	---	---	----

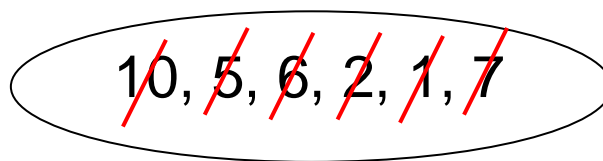
2. V DEŽNIKU POBARVAJ Z ZELENO BARVICO NAJVEČJE ŠTEVILO IN Z MODRO NAJMANJŠE ŠTEVILO.



3. UREDI ŠTEVILA PO VELIKOSTI.

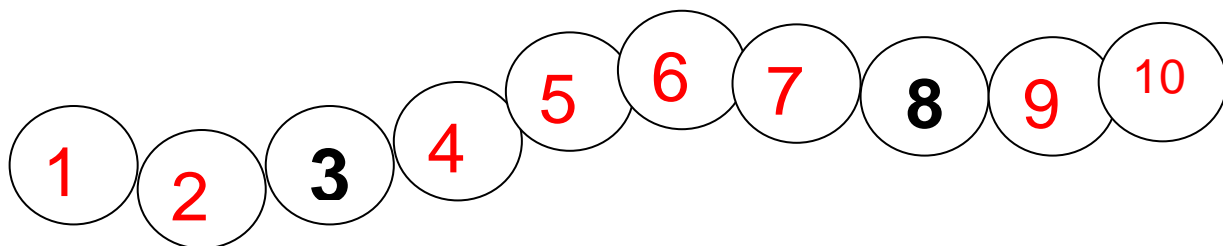


1, 3, 4, 6, 7, 8



10, 7, 6, 5, 2, 1

4. ZAPIŠI ŠTEVILA, KI MANJKAJO.



5. IZRAČUNAJ RAČUNE.

$$\begin{array}{r} 7 + 2 = 9 \\ 5 - 3 = 2 \\ 0 + 6 = 6 \\ 1 + 6 = 7 \\ 6 - 1 = 5 \end{array}$$

$$\begin{array}{r} 9 - 2 = 7 \\ 6 + 3 = 9 \\ 8 - 6 = 2 \\ 10 - 4 = 6 \\ 7 + 0 = 7 \end{array}$$

6. DOPOLNI.

PREDHODNIK	ŠTEVILO	NASLEDNIK
6	7	8
7	8	9
2	3	4
4	5	6
1	2	3
3	4	5

PREDHODNIK	ŠTEVILO	NASLEDNIK
4	5	6
8	9	10
1	2	3
4	5	6
0	1	2
7	8	9