

TO PA ŽE ZNAM!

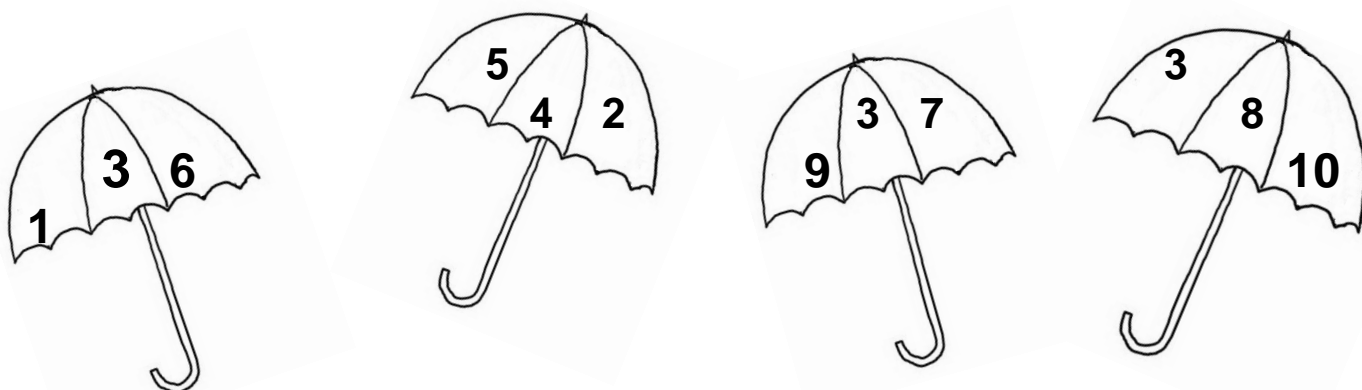


ŠTEJEMO, UREJAMO, PRIMERJAMO IN ZAPISUJEMO ŠTEVILA. SEŠTEVAMO IN ODŠTEVAMO V OBSEGU DO 10, TER DOLOČAMO PREDHODNIKE IN NASLEDNIKE ŠTEVIL.

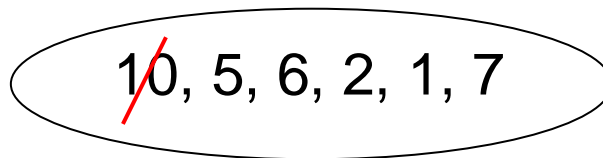
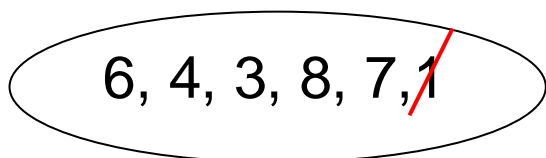
1. ZAPIŠI ŠTEVILA OD 1 DO 10.

--	--	--	--	--	--	--	--	--	--

2. V DEŽNIKU POBARVAJ Z ZELENO BARVICO NAJVEČJE ŠTEVILO IN Z MODRO NAJMANJŠE ŠTEVILO.



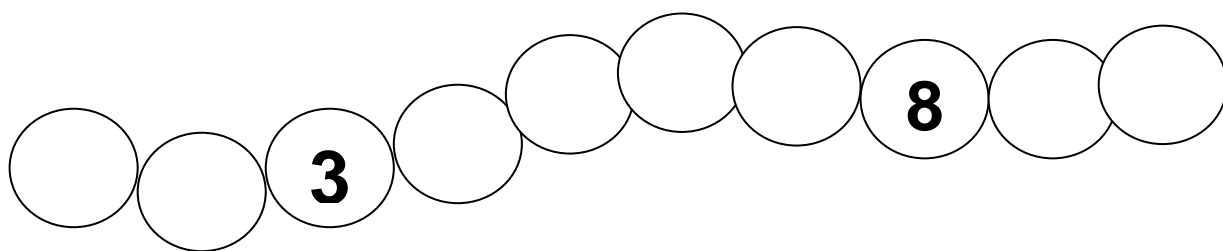
3. UREDI ŠTEVILA PO VELIKOSTI.



1. _____

10. _____

4. ZAPIŠI ŠTEVILA, KI MANJKAJO.



5. IZRAČUNAJ RAČUNE.

$$\begin{array}{r} 7 + 2 = \square \\ 5 - 3 = \square \\ 0 + 6 = \square \\ 1 + 6 = \square \\ 6 - 1 = \square \end{array}$$

$$\begin{array}{r} 9 - 2 = \square \\ 6 + 3 = \square \\ 8 - 6 = \square \\ 10 - 4 = \square \\ 7 + 0 = \square \end{array}$$

6. DOPOLNI.

PREDHODNIK	ŠTEVILO	NASLEDNIK
	7	
	8	
	3	
	5	
	2	
	4	

PREDHODNIK	ŠTEVILO	NASLEDNIK
4		
8		
		3
		6
0		
		9