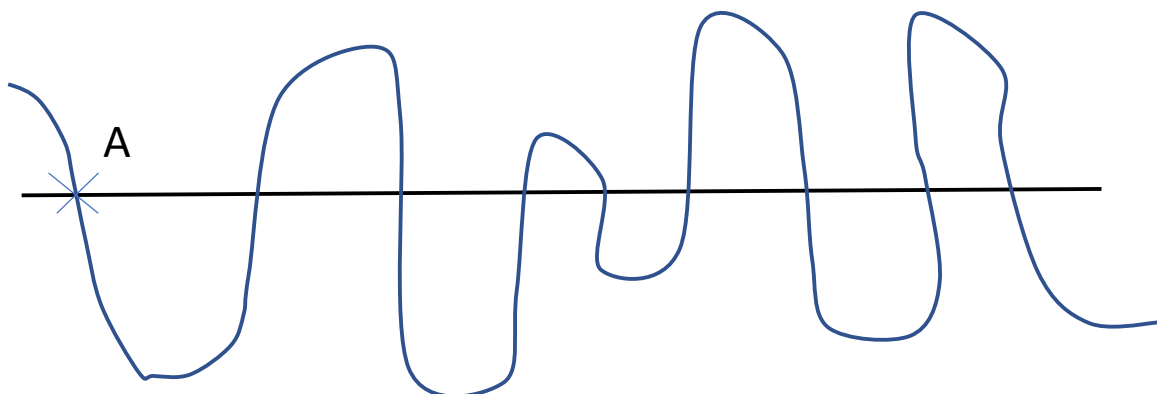


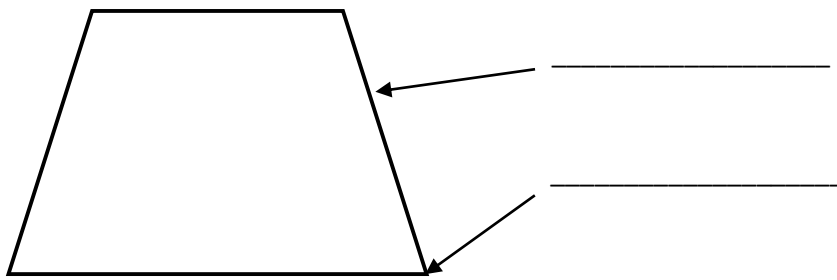
ČRTA, TOČKA

Če imaš možnost učni list natisni in rešenega zalepi v zvezek. Če nimaš te možnosti naloge reši v zvezek. Navodil ni potrebno prepisovati.

1. V zvezek nariši točki F in G. Poveži ju z ravno in s krivo črto.
Katera črta je daljša? Katera črta je krajša?
2. Nariši točki C in D. Poveži ju z ravno črto. Poveži ju še s krivo črto, vendar tako, da bo kriva črta sekala ravno v treh točkah. Nariši in poimenuj točke.
3. Ali je ravna črta lahko sklenjena?
Pojasni. Pomagaj si z risbo.
4. Označi vsa presečišča ravne in krive črte ter jim poimenuj.

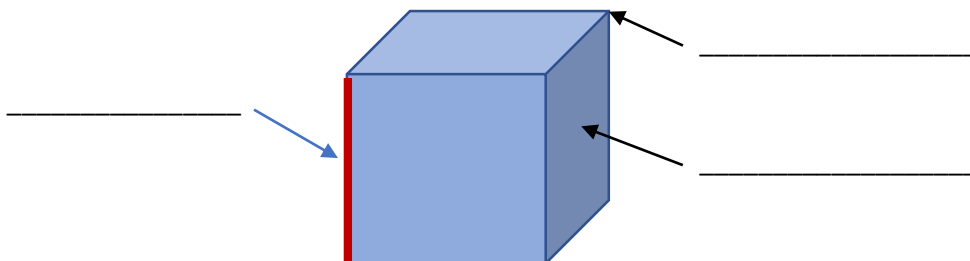


5. Poimenuj označene dele lika. Izpolni preglednico.



LIK	ŠTEVILO STRANIC	ŠTEVILO OGLIŠČ
TRIKOTNIK		
KROG		
PETKOTNIK		
KVADRAT		

6. Poimenuj označene dele telesa. Izpolni preglednico.



TELO	ŠTEVILO ROBOV	ŠTEVILO OGLIŠČ	ŠTEVILO MEJNIH PLOSKEV
KOCKA			
KVADER			
VALJ			
KROGLA			