

1. naloga:

Ivan ima 10 jabolk. Na vsak krožnik bo dal 5 jabolk. Koliko krožnikov bo potreboval?



Račun: _____

Odgovor: _____

2. naloga:

Maja bo pospravila 15 barvic. V vsak lonček jih bo dala 5. Koliko lončkov bo potrebovala?



Račun: _____

Odgovor: _____

3. naloga:

Monika je imela 12 balonov. Razdelila jih je pravično med 4 prijatelje. Koliko balonov je dobil vsak?

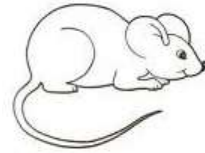




Račun: _____

Odgovor: _____

4. naloga:

3 miške so našle 15 koščkov sira. Dogovorile so se, da si bodo sir pravično razdelile. Koliko koščkov sira bo dobila vsaka miška?

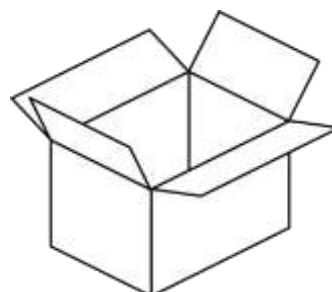
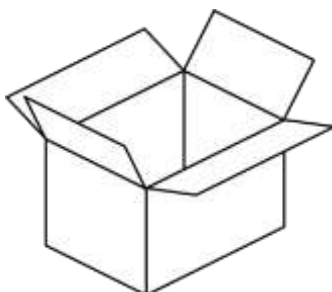


Račun: _____

Odgovor: _____

5. naloga:

Peter ima 14 kock. Pospravil jih bo enako v 2 škatli. Koliko kock bo v vsaki škatli?



Račun: _____

Odgovor: _____