







## Ocenjevanje znanja: Toplotni pasovi in površje

### STANDARDI ZNANJA, KI JIH BOMO OCENJEVALI:

Učenec:

-  določi lego posameznih toplotnih pasov
-  zna vrisati na karto polobli, ekvator, začetni poldnevnik, oba tečaja ter povratnika in tečajnika.
-  pozna osnovne reliefne oblike na Zemljinem površju.

PROJEKTNO DELO: Evropa -	Kako je bil kriterij dosežen?		
	 2T	 1T	 0T
<b>Uspešen/-a bom, ko bom upošteval/a ali kriteriji ocenjevanja ...</b>			
<b>Vsebina</b>			
1. Pravilno vrisana severni in južni pol.	2	1	0
2. Pravilno označen ekvator in stopinje.	2	1	0
3. Pravilno označen severni povratnik in stopinje.	2	1	0
4. Pravilno označen južni povratnik in stopinje.	2	1	0
5. Pravilno označen severni tečajnik in stopinje.	2	1	0
6. Pravilno označen južni tečajnik in stopinje.	2	1	0
7. Pravilno označen začetni poldnevnik.	2		0
8. Pravilno označen tropski pas.	2		0
9. Pravilno označena zmernotopla pasova.	2	1	0
10. Pravilno označena mrzla pasova.	2	1	0
11. Pravilen odgovor na vprašanje številka 1.	2		0
12. Pravilen odgovor na vprašanje številka 2.	2		0
13. Pravilen odgovor na vprašanje številka 3.	2		0
14. Pravilen odgovor na vprašanje številka 4.	2		0
<b>Jezik</b>			
13. Naloga je <i>jezikovno</i> brezhibna.	2	1	0
<b>Lepopis in viri</b>			
14. Naloga je <i>čitljivo</i> zapisana.	2	1	0

Možnih je **32 TOČK.**

TOČKOVANJE:

Št. točk	0-14	15-19	20-25	26-29	30-32
Ocena	nzd (1)	zd (2)	db (3)	pdb (4)	odl (5)

**ZAUPAJ VASE. BODI USTVARJALEN. DELAJ SAM. ZMOREŠ VSE!**

- Projektno nalogo podpiši s svojim imenom in razredom
- Izdelek slikaj ali pa pošlji na [rok.jerman@gmail.com](mailto:rok.jerman@gmail.com)
- V najkrajšem možnem času ti odgovorim.
- Za morebitna vprašanja ali pa samo tako mi lahko pišete kadarkoli na zgornjo elektronsko pošto.

Lep pozdrav Rok Jerman