

Ime in priimek: _____

Datum: _____

PREIZKUS ZNANJA SPO

(EKOLOGIJA, ČLOVEŠKO TELO, GIBANJE IN SNOVI)



OPIISNA OCENA

CILJ	DOSEŽEN	DELNO DOSEŽEN	ŠE NI DOSEŽEN
1. naloga: Pozna svoje telo in poimenuje glavne zunanje dele telesa.	5 – 4 točk	3 – 2 točk	1 – 0 točk
2. naloga: Pozna svoje telo in poimenuje nekatere notranje organe.	6 – 5 točk	4 – 3 točk	2 – 0 točk
3. naloga: Ve, da nam zdrav način prehranjevanja, telesne vaje in počitek omogočajo rast in razvoj ter nam pomagajo ohraniti zdravje.	10 – 8 točk	7 – 5 točk	4 – 0 točk
4. naloga: Našteje načine gibanja in mirovanja.	6 – 5 točk	4 – 3 točk	2 – 0 točk
5. naloga: Zna uravnesiti gugalnico.	2 točki	1 točka	0 točk
6. naloga: Našteje nekaj trdnih snovi in tekočin.	6 – 5 točk	4 – 3 točk	2 – 0 točk
7. naloga: Našteje postopke za ločevanje zmesi.	4 točke	3 – 2 točk	1 – 0 točk
8. naloga: Pozna nekaj lastnosti teles in snovi, razlike in podobnosti med njimi ter azvrsti snovi po izbrani lastnosti.	6 – 5 točk	4 – 3 točk	2 – 0 točk
9. in 10. naloga: Pozna razliko med semenom in sadiko ter ve, kaj potrebujejo rastline za rast.	7 – 6 točk	5 – 4 točk	3 – 0 točk
11. in 12. naloga: Ustrezno zna ravnati z odpadki in našteje onesnaževalce okolja.	15 – 12 točk	11 – 8 točk	7 – 0 točk

PRIMER ŠTEVILČNE OCENE


67 – 60 točk = odlično (5)

59 – 52 točk = prav dobro (4)

51 – 44 točk = dobro (3)

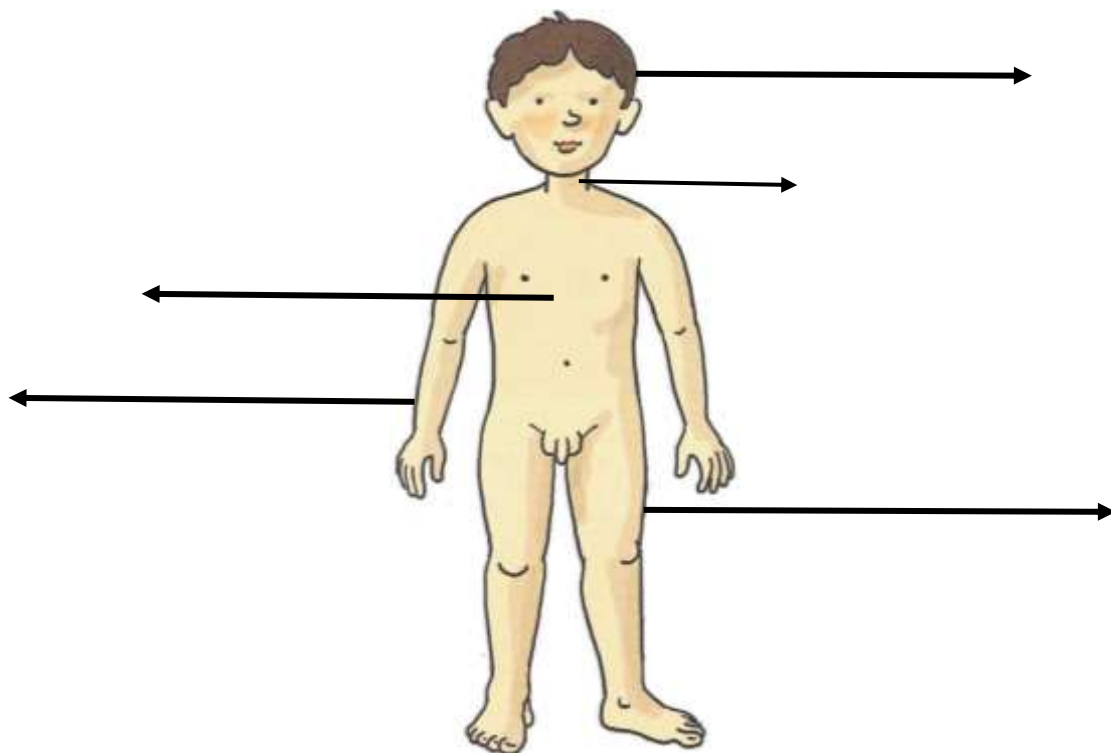
43 – 36 točk = zadostno (2)

35 in manj točk = nezadostno (1)



1. Na puščice napiši glavne zunanje dele telesa.

5 točk/



2. Pravilno poveži sliko in napis notranjega organa.

6 točk/

SRCE

PLJUČA

LEDVICA

ŽELODEC

MOŽGANI

ČREVESJE

The image contains seven anatomical illustrations of internal organs: a heart (top left), two kidneys (top middle), a pair of lungs (middle left), a stomach (middle right), a brain (bottom left), a large intestine (bottom middle), and a stomach (bottom right). The labels are arranged to the right of the illustrations.

3. Kaj ni zdravo? Prečrtaj.

6 točk/



4. V prvi okvirček napiši tri besede, ki pomenijo gibanje in v drugega tri besede, ki pomenijo mirovanje.

6 točk/


5. Ustrezno poveži.

2 točki/

Gugalnica je v ravnovesju.



Gugalnica ni v ravnovesju.



6. V prvi okvirček napiši tri trdne snovi in v drugi okvirček tri tekočine.

6 točk/

7. Naštej štiri primere ločevanja snovi (lahko tudi pripomočke, s katerimi ločujemo).

4 točke/

_____ , _____ ,
_____ in _____ .

8. Obkroži pravilni odgovor.

6 točk/



Katere snovi so v zmesi?

- a) riž in mleko
- b) ribez in mleko

Katere snovi so v zmesi?

- a) malinov sirup in voda
- b) maline in voda

Ali snovi lahko ločiš? DA NE

Ali snovi lahko ločiš? DA NE

Snovi

- a) ločimo z magnetom.
- b) ločimo s prebiranjem.
- c) ločimo s precejanjem.
- č) ne moremo ločiti.

Snovi

- a) ločimo z magnetom.
- b) ločimo s prebiranjem.
- c) ločimo s precejanjem.
- č) ne moremo ločiti.

9. Nariši:

2 točki/





SEME

SADIKO



10. Kaj potrebuje rastlina za rast? Vpiši v okvirčke.

5 točk/



11. Poveži odpadek s pravim košem.

11 točk/



12. Kaj onesnažuje okolje? Obkroži:

4 točke/

avtomobili, kolesa, drevesa, živali, detergents, tovarne, cvetlice, kemikalije