





ČRTIČNI PRIKAZ

1. Učenci so pri likovni umetnosti iz slanega testa oblikovali modele geometrijskih teles.

Dopolni črtični prikaz s števili.

		ŠTEVILO
		
		
		
		

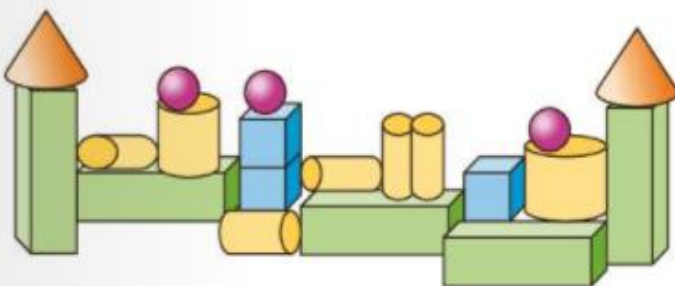
ZA VSAK NAREJEN MODEL
SO NARISALI ČRTICO V
USTREZEN PREDAL.



NATANČNO SI OGLEDJ ČRTNI PRIKAZ IN ODGOVORI NA VPRAŠANJA:

1. KATERIH MODELOV TELES SO OTROCI IZDELALI NAJVEČ?
2. KATERIH MODELOV TELES SO OTROCI IZDELALI NAJMANJ?
3. KOLIKO MODELOV KVADROV IN MODELOV STOŽCEV SO IZDELALI SKUPAJ?
4. KOLIKO MODELOV VALJEV BI JIM OSTALO, ČE BI IZ DVANAJSTIH NAREDILI MODELE KROGLE?

2. Filip se je doma igral z geometrijskimi telesi. Sestavil je obzidje. Koliko posameznih geometrijskih teles je uporabil?



	ŠTEVILO
KROGLA	
KOCKA	
STOŽEC	
VALJ	
KVADER	

- KATERIH TELES JE NAJVEČ?
 KATERIH TELES JE NAJMANJ?
 KATERIH TELES JE ENAKO MNOGO?
 ZA KOLIKO JE KROGEL MANJ KOT KVADROV?
 KOLIKO JE VSEH TELES?