


GLAVNI IN VRŠTILNI ŠTEVNIKI



2. razred OŠ Šmarje pri Kopru

KAJ SO ŠTEVNIKI?

Besede, s katerimi štejemo, imenujemo
ŠTEVNIKI.



GLAVNI ŠTEVNIKI

VRSTILNI ŠTEVNIKI





GLAVNI ŠTEVNIKI

GLAVNI ŠTEVNIKI so tisti, po katerih se vprašamo z vprašalnico **KOLIKO**.

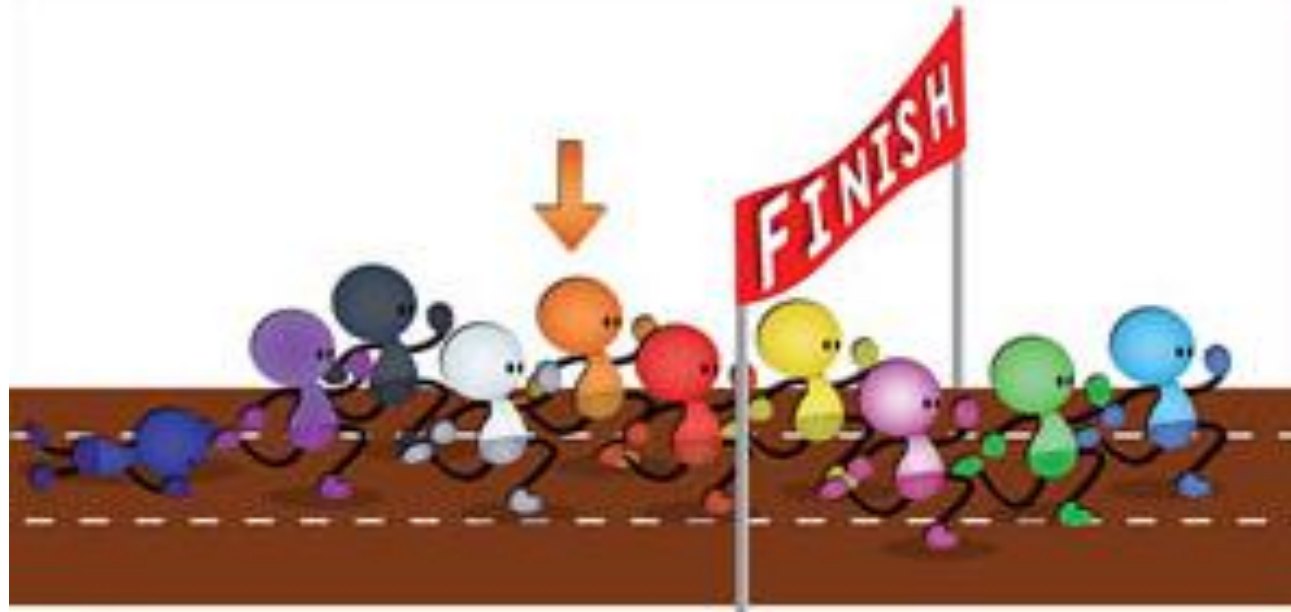
Z njimi povemo količino nečesa.

Primeri glavnih števnikov: tri, sedem, 25, 100, ..

Glavne števnike, če jih pišemo s številko pišemo brez pike.



VRSTILNI ŠTEVNIKI



VRSTILNI ŠTEVNIKI so izpeljani iz glavnih.

Z njimi povemo položaj nečesa, zato je vprašalnica po njih **KATERI**.

Primeri vrstilnih števnikov: peti, deseti, 12., 99., 15.

Kadar vrstilni števnik pišemo s številkami, pišemo za njim piko: na

13. strani, razred 2. a,...

GLAŠNO PREBERI POVEDI



V skupini je 6 učencev. Tadeja je 6.član.

Športni dan imamo 15. aprila. Na počitnicah sem bil 15 dni.

Na tekmi sem bila 10. po vrsti. Na tekmi je bilo 10 otrok.

Rojstni dan imam 18. junija. Takrat bom imela 18 let.

Živim v 13. nadstropju v bloku. Moja družina šteje 4 člane.

USTNO ODGOVORI NA VPRAŠANJA!

ANA

ROK

TIA

TIM

MAJA



VAL

JAN

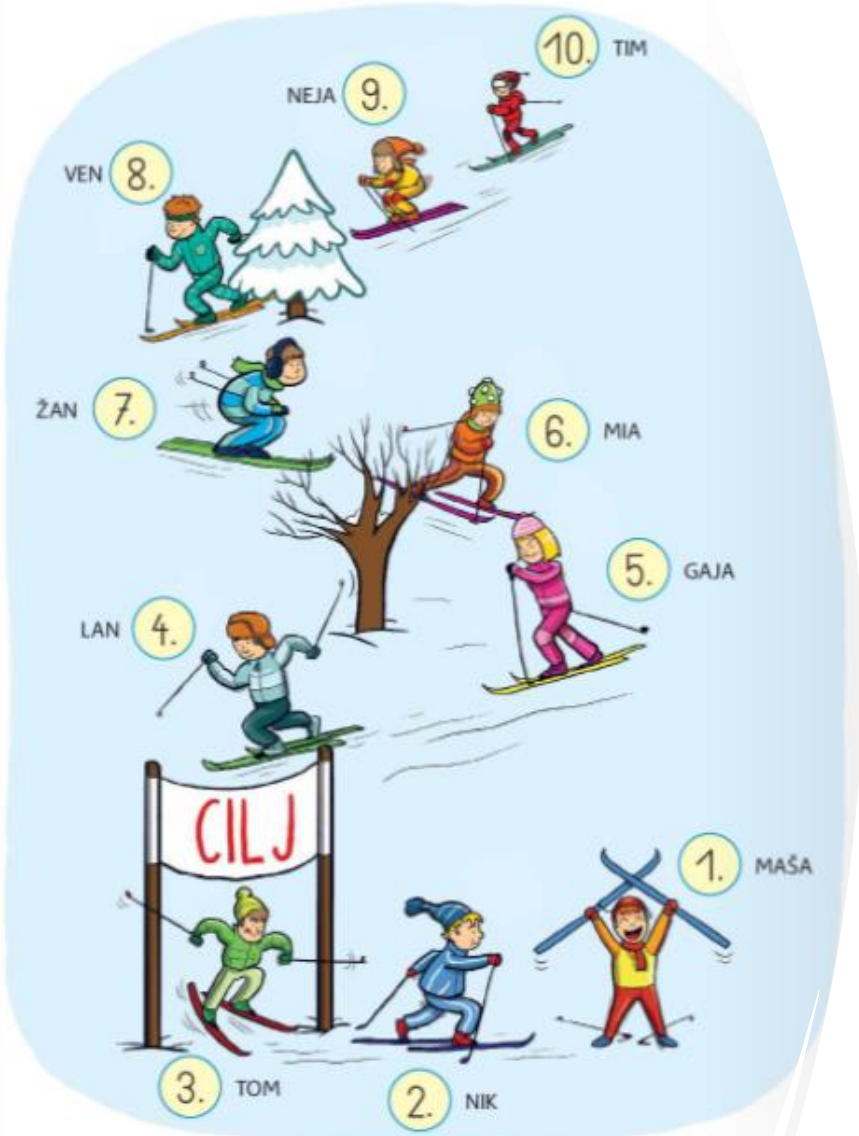
ŽAN

LARA

SARA

Kdo je prvi prispel na cilj?
Kateri je na cilj pritekel Žan?
Kdo je bil zadnji?
Katera je bila Lara?

Koliko ljudi se je udeležilo teka?
Koliko je bilo fantov?
Koliko deklet je teklo?
Kateri sta na cilj prispeli Tia in Sara?



KOLIKO UČENCEV TEKMUJE?
KDO JE DESETI?

ŠE ENA PODOBNA VAJA ZA UTRJEVANJE ŠNOVI.

← NALOGO REŠI USTNO.



PRVI, DRUGI, TRETJI

1. DOBRO SI OGLEDJ OTROKE. POD VSAKIM S ŠTEVILKO IN BESEDO NAPIŠI, KATERI PO VRSTI JE OD LEVE PROTI DESNI. NATO ODGOVORI NA VPRAŠANJA POD SLIKO.



- ▶ KOLIKO OTROK JE NA SLIKI? _____
- ▶ KATERA PO VRSTI JE NINA? _____
- ▶ KOLIKO JE DEČKOV? _____
- ▶ KATERI PO VRSTI JE DEČEK, KI IMA ČRTASTE KRATKE HLAČE? _____
- ▶ KOLIKO JE DEKLIC? _____
- ▶ KOLIKO ČRK JE V IMENU DEKLICE, KI JE OSMA? _____
- ▶ KOLIKO OTROK IMA IME SESTAVLJENO IZ ŠTIRIH ČRK? _____
- ▶ ALI IMAJO VSI DEČKI IME SESTAVLJENO IZ TREH ČRK? _____
KOLIKO PA JIH IMA? _____
- ▶ KOLIKO OTROK NA SLIKI IMA KAPO? _____
- ▶ KATERI PO VRSTI JE DEČEK, KI IMA DOLGE HLAČE IN KAPO? _____

USTNO REŠI DELOVNI LIST.

DELOVNI
LIST




**ODGOVORE NA
VPRAŠANJA NAPIŠI
V MATEMATIČNI
ZVEZEK IN MI JIH
POŠLJI, DA
PREGLEDAM, ČE SI
JIH PRAU REŠIL/A.**

NASLOV V ZVEZKU NAJ BO:

**GLAVNI IN VRSTILNI
ŠTEVNIKI**

OPAŽUJ IN ODGOVORI NA VPRAŠANJA. ODGOVORE ZAPIŠI V ZVEZEK.



1. PREŠTEJ IN POVEJ, KOLIKO JE MODRIH IN KOLIKO JE RUMENIH VAGONOV.
2. KATERI PO VRSTI SO VAGONI ROZA BARVE?
3. KAKŠNE BARVE JE PETNAJSTI VAGON?
4. KAKŠNE BARVE JE SEDEMNAJSTI VAGON?
5. ALI JE TRINAJSTI VAGON RUMEN?

ŠDZ 2/13



PRVI, DRUGI, TRETJI

JURE, MANJA, MAKS IN NIK STANUJEJO V STOLPNICI.
DO NADSTROPIJ, V KATERIH SO NJIHOVA STANOVANJA,
SE PELJEJO Z DVIGALOM.



JURE MANJA



NIK



MAKS

NIK STANUJE V **TRETJEM** NADSTROPJU. PRITISNIL BO NA GUMB
S ŠTEVILKO **TRI**.


ŠTEVILKO **10** IMA ZADNJE NADSTROPJE.

MAKS JE PRITISNIL NA GUMB S ŠTEVILKO **DESET**. PELJAL SE BO
V **10.** NADSTROPJE.

NA GUMB S ŠTEVILKO **4** STA PRITISNILA JURE IN MANJA.
STANUJETA V **4.** NADSTROPJU.

1. VPIŠI ŠTEVILA. POBARVAJ PO NAVODILIH.

NE POZABI NA PIKE
ZA ŠTEVILI.



-  BO 2. KROGLICA.
-  BO 3. KROGLICA.
-  BO 6. KROGLICA.
-  BO 9. KROGLICA.
-  BO 10. KROGLICA.

